


# 数 学

注 意

- 1 問題は **1** から **4** までで、7 ページにわたって印刷してあります。  
また、解答用紙は両面に印刷してあります。
- 2 検査時間は 50 分で、終わりは午前 11 時 10 分です。
- 3 声を出して読むではいけません。
- 4 解答は全て解答用紙に HB 又は B の鉛筆（シャープペンシルも可）を使って  
明確に記入し、解答用紙だけを提出しなさい。
- 5 答えに根号が含まれるときは、根号を付けたまま、分母に根号を含まない  
形で表しなさい。また、根号の中を最も小さい自然数にしなさい。
- 6 答えは解答用紙の決められた欄からはみ出さないように書きなさい。
- 7 解答を直すときは、きれいに消してから、消しくずを残さないようにして、  
新しい答えを書きなさい。
- 8 受検番号を解答用紙の表面と裏面の決められた欄に書き、表面については、  
その数字の  の中を正確に塗りつぶしなさい。
- 9 解答用紙は、汚したり、折り曲げたりしてはいけません。



1 次の各問に答えよ。

〔問1〕  $\left(\frac{\sqrt{2}+1}{\sqrt{3}} - \frac{\sqrt{24}-\sqrt{3}}{3}\right) \times (\sqrt{2}+1)$  を計算せよ。

〔問2〕 二次方程式  $x^2 - 5x + 6 = 0$  の2つの解の和が、 $x$  についての二次方程式  $x^2 - 2ax + a^2 - 1 = 0$  の解の1つになっているとき、 $a$  の値を全て求めよ。

〔問3〕 一次関数  $y = px + q$  ( $p < 0$ ) における  $x$  の変域が  $-7 \leq x \leq 5$  のときの  $y$  の変域と、一次関数  $y = x - 3$  における  $x$  の変域が  $-1 \leq x \leq 5$  のときの  $y$  の変域が一致するとき、定数  $p$ ,  $q$  の値を求めよ。

〔問4〕 1から7までの数字を1つずつ書いた7枚のカード①, ②, ③, ④, ⑤, ⑥, ⑦が入った袋がある。

この袋からAさんが1枚のカードを取り出し、その取り出したカードを戻さずに、残りの6枚のカードからBさんが1枚のカードを取り出すとき、2人が取り出した2枚のカードに書いてある数の和から2を引いた数が素数になる確率を求めよ。

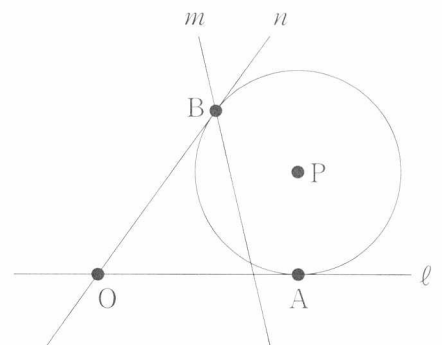
ただし、どのカードが取り出されることも同様に確からしいものとする。

〔問5〕 右の図で、点A、点Oは直線 $\ell$ 上にある異なる点、直線 $m$ は線分OAと交わる直線で、点Bは直線 $m$ 上にある点である。

点Pは、点Aで直線 $\ell$ に、点Bで2点B、Oを通る直線 $n$ に、それぞれ接する円の中心である。

解答欄に示した図をもとにして、点Bと点Pをそれぞれ1つ、定規とコンパスを用いて作図によって求め、点Bと点Pの位置を示す文字B、Pも書け。

ただし、作図に用いた線は消さないでおくこと。

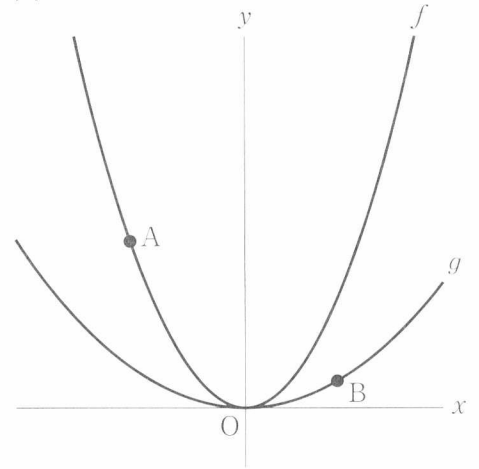


2 右の図1で、点Oは原点、曲線 $f$ は関数 $y=x^2$ のグラフ、  
 曲線 $g$ は関数 $y=\frac{1}{4}x^2$ のグラフを表している。

曲線 $f$ 上にあり $x$ 座標が負の数である点をA、曲線 $g$ 上に  
 あり、 $x$ 座標が正の数で、 $y$ 座標が点Aの $y$ 座標よりも  
 小さい点をBとする。

点Oから点(1, 0)までの距離、および点Oから点(0, 1)  
 までの距離をそれぞれ1 cm として、次の各問に答えよ。

図1

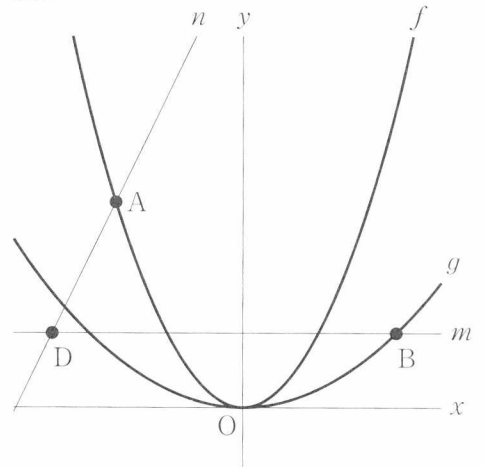


〔問1〕 2点A, Bを通る直線を引き、 $x$ 軸との交点をCとした場合を考える。

点Bの $x$ 座標が $\frac{4}{3}$ 、 $AB:BC=21:4$ のとき、点Aの座標を求めよ。

- [問2] 右の図2は、図1において、点Bを通りx軸に平行な直線mを引き、直線m上にありx座標が負の数である点をDとし、2点A、Dを通る直線nを引いた場合を表している。
- 次の(1)、(2)に答えよ。

図2



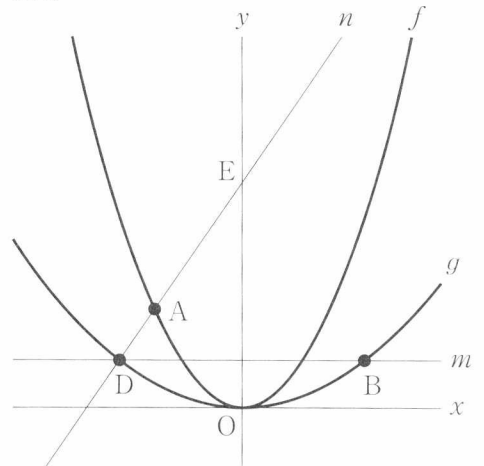
- (1) 右の図3は、図2において、点Dが曲線g上にあり、直線nの傾きが正の数するとき、直線nとy軸との交点をEとした場合を表している。

2点B、Eを通る直線を引いた場合を考える。

直線BEの傾きが $-2$ 、 $DA : AE = 1 : 3$ のとき、点Bのx座標を求めよ。

ただし、答えだけでなく、答えを求める過程が分かるように、途中の式や計算なども書け。

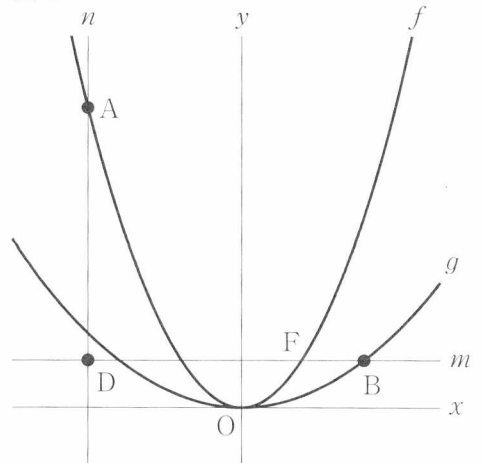
図3



- (2) 右の図4は、図2において、直線nがy軸に平行なとき、曲線fと直線mとの交点のうち、x座標が正の数である点をFとした場合を表している。

$BF = \frac{1}{2}$  cm、 $AD = 2$  cm のとき、2点A、Fを通る直線の式を求めよ。

図4



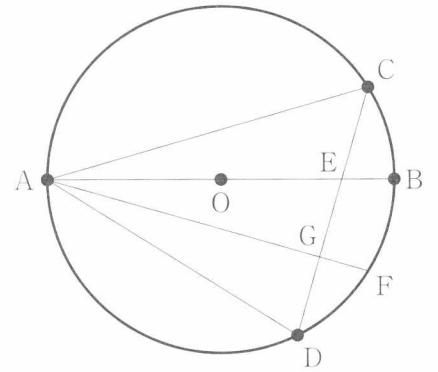
3 右の図で、点  $O$  は線分  $AB$  を直径とする円の中心である。

点  $C$  は、円  $O$  の周上にあり、点  $A$ 、点  $B$  のいずれにも一致しない点、点  $D$  は、点  $C$  を含まない  $\widehat{AB}$  上にある点で、点  $A$  と点  $C$ 、点  $A$  と点  $D$  をそれぞれ結び、 $2\angle BAC = \angle BAD$  である。

点  $C$  と点  $D$  を結び、線分  $AB$  と線分  $CD$  との交点を  $E$  とする。

$\angle BAD$  の二等分線を引き、点  $A$  を含まない  $\widehat{BD}$  との交点を  $F$  とし、線分  $AF$  と線分  $CD$  との交点を  $G$  とする。

次の各問に答えよ。



〔問 1〕  $\angle ACD = 50^\circ$  のとき、 $\angle BAC$  の大きさは何度か。

〔問2〕 次の (1), (2) に答えよ。

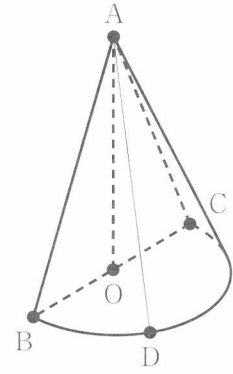
(1)  $\triangle ADG \equiv \triangle AEG$  であることを証明せよ。

(2)  $AO = 5 \text{ cm}$ ,  $AD = 8 \text{ cm}$  のとき,  $AG : GF$  を最も簡単な整数の比で表せ。

4 右の図1に示した立体は、 $\angle AOB = 90^\circ$ の $\triangle AOB$ を辺AOを軸として $180^\circ$ 回転させてできた立体であり、回転後に、点Bが移動した点をCとする。

点Dは $\widehat{BC}$ 上にある点で、点B、点Cのいずれにも一致しない。  
頂点Aと点Dを結ぶ。

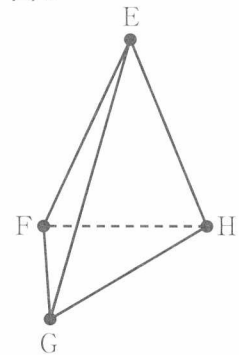
図1



右の図2に示した立体E-FGHは、 $FG = FH$ 、平面 $FGH \perp$ 平面EGHの四面体である。

また、図1の $\triangle ABC$ と図2の $\triangle EGH$ において、 $\triangle ABC \cong \triangle EGH$ である。

図2

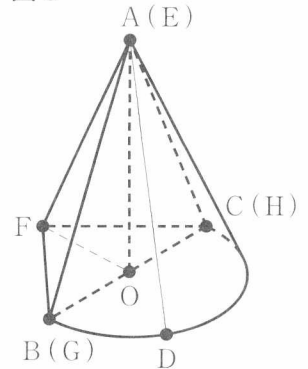


右の図3に示した立体は、図1の立体の面ABCと図2の立体の面EGHとを、頂点Aに頂点Eが、点Bに頂点Gが、点Cに頂点Hが、それぞれ一致し、頂点Fが直線BCに関して点Dと反対側にあるように重ね合わせた立体であり、4点B、D、C、Fは同一平面上にある。

頂点Fと点Oを結ぶ。

次の各問に答えよ。

図3



[問1] 図3において、点Dと点Oを通る直線DOが辺BFに平行なとき、直線DOと辺CFとの交点をIとし、頂点Aと点Iを結んだ場合を考える。

$AO = 6 \text{ cm}$ 、 $BO = 4 \text{ cm}$ 、 $FO = 3 \text{ cm}$  のとき、 $\triangle ADI$ の面積は何 $\text{cm}^2$ か。



〔問2〕 図3において、点Dと頂点Fを結び、線分DF上に点Oがあるとき、線分AD上の点をJとし、頂点Fと点Jを結んだ場合を考える。

$AO = 6 \text{ cm}$ ,  $BC = 9 \text{ cm}$ ,  $FO = \frac{5}{2} \text{ cm}$ ,  $DJ = 1 \text{ cm}$  のとき、線分FJの長さは何cmか。

ただし、答えだけでなく、答えを求める過程が分かるように、途中の式や計算なども書け。

〔問3〕 図3において、点Bと点D、点Cと点Dをそれぞれ結んだ場合を考える。

$\triangle BCF$  が一辺の長さ  $6 \text{ cm}$  の正三角形、 $AF : FO = 3 : 1$ 、 $\widehat{BD} : \widehat{DC} = 2 : 1$  のとき、  
五面体  $A - BDCF$  の体積は何  $\text{cm}^3$  か。





